


2. Cuenta y escribe los números del 80 al 89:

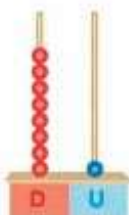


8 decenas ...8... unidades

D U

ochenta y ocho

8 8

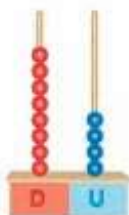


...8... decenas ...1... unidad

D U

ochenta y uno

8 1

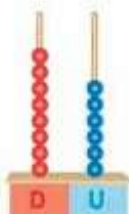


...8... decenas ...4... unidades

D U

ochenta y cuatro

8 4



...8... decenas ...6... unidades

D U

ochenta y seis

8 6

70

71

72

73

74

75

76

77

78

79

80

81

82

83

84

85

86

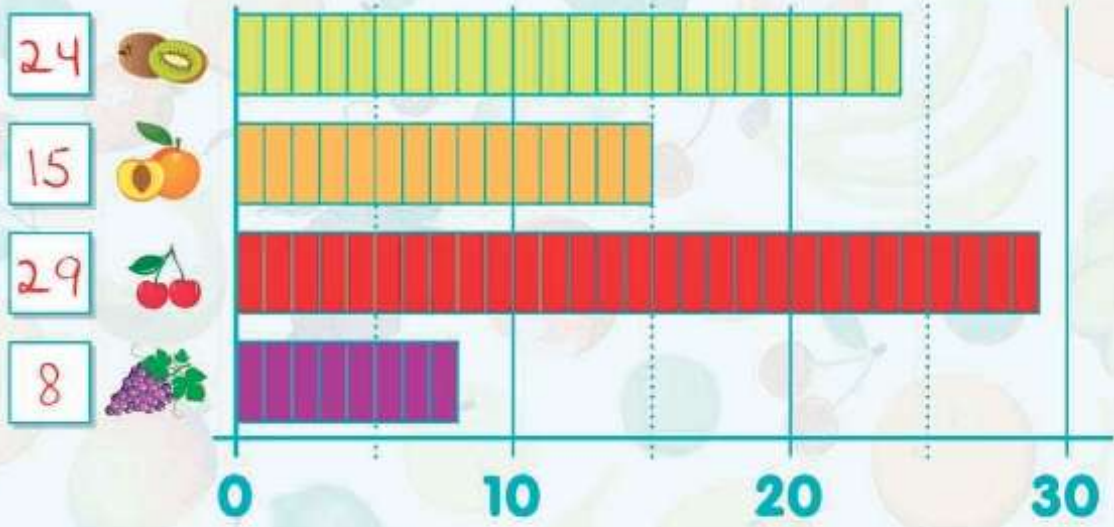
87

88

89

4. ¿Cuántas personas han elegido cada fruta?

▶ La encuesta



5. Fíjate en los ejemplos y realiza las sumas y las restas:

$$43 + 10 = 53$$

$$48 + 10 = \underline{58}$$

$$63 + 10 = \underline{73}$$

$$54 + 10 = \underline{64}$$

$$71 + 10 = \underline{81}$$

$$25 - 10 = 15$$

$$36 - 10 = \underline{26}$$

$$64 - 10 = \underline{54}$$

$$86 - 10 = \underline{76}$$

$$58 - 10 = \underline{48}$$



¡No te olvides de pasar por el Gimnasio para practicar algunos ejercicios!



6. Tacha las monedas que suman la cantidad indicada:



Cálculo mental

El número anterior en los cambios de decena. Yo digo 40 y tú escribes 39: 40, 60, 30, 50, 70, 80.

39

59

29

49

69

79

9. ¿Cuántos céntimos de euro hay?



10. Escribe el valor de las monedas que faltan:



¡No te olvides de pasar por el Gimnasio para practicar algunos ejercicios!



El número anterior. Yo digo 43 y tú escribes 42: 43, 57, 61, 26, 39, 20.

42 | 56 | 60 | 25 | 38 | 19

11. Cuenta los céntimos y escribe:



95

noventa y cinco



92

noventa y dos



91

noventa y uno



96

noventa y seis



99

noventa y nueve

80

81

82

83

84

85

86

87

88

89

90

91

92

93

94

95

96

97

98

99

Cálculo mental

Restar una decena. Yo digo $53 - 10$ y tú escribes 43:
 $53 - 10$, $78 - 10$, $65 - 10$, $32 - 10$, $46 - 10$, $94 - 10$.

43

68

55

22

36

84

12. Completa:



$$20 = 10 + \underline{10}$$



$$50 = 20 + 20 + \underline{10}$$



$$50 = 10 + 10 + \underline{10} + \underline{10} + \underline{10}$$

13. ¿Cuántos euros hay?



$$20 + 10 = \underline{30}$$



$$50 + 20 = \underline{70}$$



$$\underline{50} + \underline{10} = \underline{60}$$



$$\underline{20} + \underline{20} + \underline{10} = \underline{50}$$

14. Resuelve:



En un cuenco hay 38 aceitunas.
Se comen 12. ¿Cuántas aceitunas
quedarán en el plato?



Solución



Quedarán 26 aceitunas.

Operación

	D	U
	3	8
-	1	2
	2	6

Carmen tenía 46 € y se gastó
25 € en el supermercado.
¿Cuántos euros le quedan?



Solución

Le quedan 21 €.

Operación

	D	U
	4	6
-	2	5
	2	1

15. Resuelve el problema:



Juan tiene este dinero



- Si compra el aceite, ¿cuánto dinero le sobraría?

Datos Tiene 55 €.
Gasta 23 €.

Solución Le quedarán 32 €.

Operación

	D	U
	5	5
-	2	3
	3	2

- Si compra la mermelada y el queso, ¿cuánto tendrá que pagar?

Datos
La mermelada cuesta 12 €.
El queso cuesta 16 €.

Solución Tendrá que pagar 28 €.

Operación

	D	U
	1	2
+	1	6
	2	8

99

98

97

96

95

94

93

92

91

90

89

88

87

86

85

84

83

82

81

80

79

78

77