













Di los números que hay en esta columna.



1. Completa la tabla:

0	1	2	3	4	5	6	7	8	9
10	11	12		14	15	16	17	18	
20	21	22	23	24	25	26	27	28	29
30	31		33	34	35	36	37	38	39
	41	42	43	44	45	46		48	49
50	51	52	53		55	56	57	58	59
60	61		63	64	65		67	68	69
70	71	72	73			76	77	78	79
80		82	83	84	85	86	87	88	89
90	91	92	93	94	95	96	97		99

¿Qué número tapa cada zapato?

	<input type="text" value="81"/>		<input type="text" value="62"/>		<input type="text" value="75"/>		<input type="text" value="74"/>
	<input type="text" value="52"/>		<input type="text" value="98"/>		<input type="text" value="13"/>		<input type="text" value="66"/>
	<input type="text" value="40"/>		<input type="text" value="32"/>		<input type="text" value="19"/>		<input type="text" value="47"/>

2. Completa las series y observa:

Los números pares acaban en...

0 2 4 6 8

Los números impares acaban en...

1 3 5 7 9

3. Observa la cifra de las unidades y pinta:



pares



impares

43 46 51 12 20 9
38 29 25 17 34 96

4. Escribe cuatro números de cada clase:

Respuesta personal

Pares →

Impares →

pares	impares
60	61
62	63
64	65
66	67
68	69
70	71
72	73
74	75
76	77
78	79
80	81
82	83
84	85
86	87
88	89
90	91
92	93
94	95
96	97
98	99



5. Realiza las siguientes sumas y restas:

$$\begin{array}{r} 49 \\ - 6 \\ \hline \end{array}$$

43

$$\begin{array}{r} 34 \\ - 12 \\ \hline \end{array}$$

22

$$\begin{array}{r} 78 \\ - 43 \\ \hline \end{array}$$

35

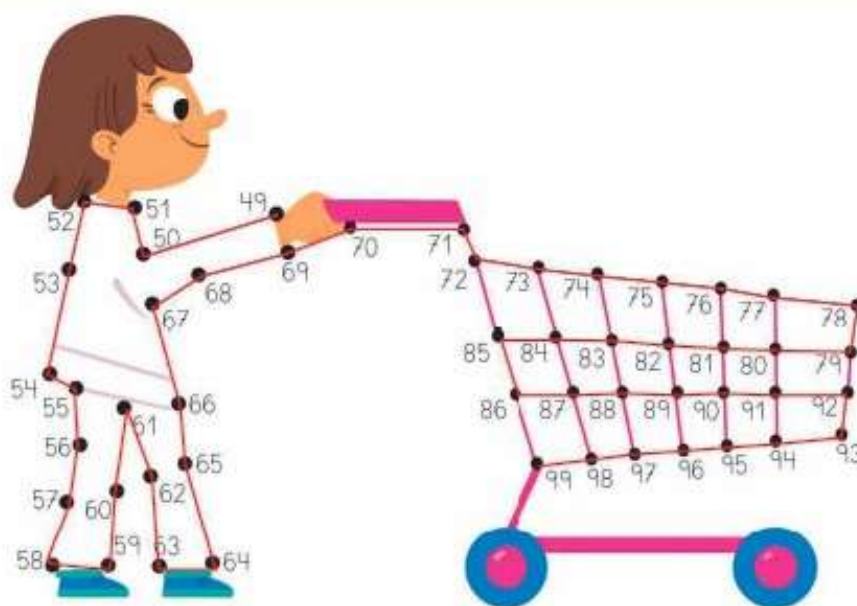
$$\begin{array}{r} 96 \\ - 54 \\ \hline \end{array}$$

42

$$\begin{array}{r} 57 \\ - 24 \\ \hline \end{array}$$

33

6. Une los puntos en orden desde el 49 hasta el 99:



Cálculo mental

Restar 4. Yo digo $19 - 4$ y tú escribes 15: $19 - 4$, $16 - 4$, $18 - 4$, $15 - 4$, $17 - 4$, $10 - 4$.

15 | 12 | 14 | 11 | 13 | 6

7. Coloca y resuelve:



$48 - 32$

	D	U
	4	8
-	3	2
	1	6

8. Tacha las monedas que necesitas:



52 céntimos




25 céntimos




45 céntimos



- 99
- 97
- 95
- 93
- 91
- 89
- 87
- 85
- 83
- 81
- 79
- 77
- 75
- 73
- 71
- 69
- 67
- 65
- 63
- 61
- 59
- 57
- 55



El reloj digital

9. Une los relojes con la hora que marcan:




Las ocho

Las siete y media

Las doce y media

La una

La una y media



Cálculo mental

El número anterior en los cambios de decena.
Yo digo 40 y tú escribes 39: 40, 60, 90, 20, 50, 70.

39 59 89 19 49 69

10. Pega los relojes digitales correspondientes:



11. Pega los relojes correspondientes a cada hora:



12. Indica el lugar aproximado de cada número:



¡No te olvides de pasar por el Gimnasio para practicar algunos ejercicios!



El zoológico



Begoña ha ido al zoológico con sus padres. Han pasado un día muy divertido.

13. Begoña tiene 7 años. ¿Cuánto deben pagar sus padres por su entrada y la de ella?



Operación

D U

	5
1	2
+	1 2
2	9

Solución

Han de pagar 29 euros.

14. Si han pagado con este dinero, ¿cuánto les tendrán que devolver?



Les tendrán que devolver 1 €.



15. Observa y contesta a las preguntas:

ENERO							FEBRERO							MARZO							ABRIL						
L	M	Mi	J	V	S	D	L	M	Mi	J	V	S	D	L	M	Mi	J	V	S	D	L	M	Mi	J	V	S	D
1	2	3	4	5	6	7				1	2	3	4				1	2	3	4							1
8	9	10	11	12	13	14	5	6	7	8	9	10	11	5	6	7	8	9	10	11	2	3	4	5	6	7	8
15	16	17	18	19	20	21	12	13	14	15	16	17	18	12	13	14	15	16	17	18	9	10	11	12	13	14	15
22	23	24	25	26	27	28	19	20	21	22	23	24	25	19	20	21	22	23	24	25	16	17	18	19	20	21	22
29	30	31	26	27	28	26	27	28	29	30	31	²³ / ₃₀	24	25	26	27	28	29									

MAYO							JUNIO							JULIO							AGOSTO						
L	M	Mi	J	V	S	D	L	M	Mi	J	V	S	D	L	M	Mi	J	V	S	D	L	M	Mi	J	V	S	D
	1	2	3	4	5	6				1	2	3							1				1	2	3	4	5
7	8	9	10	11	12	13	4	5	6	7	8	9	10	2	3	4	5	6	7	8	6	7	8	9	10	11	12
14	15	16	17	18	19	20	11	12	13	14	15	16	17	9	10	11	12	13	14	15	13	14	15	16	17	18	19
21	22	23	24	25	26	27	18	19	20	21	22	23	24	16	17	18	19	20	21	22	20	21	22	23	24	25	26
28	29	30	31	25	26	27	28	29	30	²³ / ₃₀	²⁴ / ₃₁	25	26	27	28	29	27	28	29	30	31						

SEPTIEMBRE							OCTUBRE							NOVIEMBRE							DICIEMBRE						
Lu	Ma	Mi	Ju	Vi	Sa	Do	Lu	Ma	Mi	Ju	Vi	Sa	Do	Lu	Ma	Mi	Ju	Vi	Sa	Do	Lu	Ma	Mi	Ju	Vi	Sa	Do
					1	2	1	2	3	4	5	6	7				1	2	3	4						1	2
3	4	5	6	7	8	9	8	9	10	11	12	13	14	5	6	7	8	9	10	11	3	4	5	6	7	8	9
10	11	12	13	14	15	16	15	16	17	18	19	20	21	12	13	14	15	16	17	18	10	11	12	13	14	15	16
17	18	19	20	21	22	23	22	23	24	25	26	27	28	19	20	21	22	23	24	25	17	18	19	20	21	22	23
24	25	26	27	28	29	30	29	30	31	26	27	28	29	30	²⁴ / ₃₁	25	26	27	28	29	30						



- Fueron al zoo el último día de junio. ¿Qué día de la semana era? sábado

16. El horario de verano es desde el sexto mes hasta el décimo. ¿Desde qué mes hasta qué mes?

Desde junio hasta octubre

17. ¿En qué mes el día 9 es miércoles?

mayo