





1. Cuenta y escribe:


 ..6.. decenas ..4.. unidades    D    U  
 sesenta y cuatro    6 4


 ..6.. decenas ..1.. unidad    D    U  
 sesenta y uno    6 1


 ..6.. decenas ..6.. unidades    D    U  
 sesenta y seis    6 6


 ..6.. decenas ..8.. unidades    D    U  
 sesenta y ocho    6 8

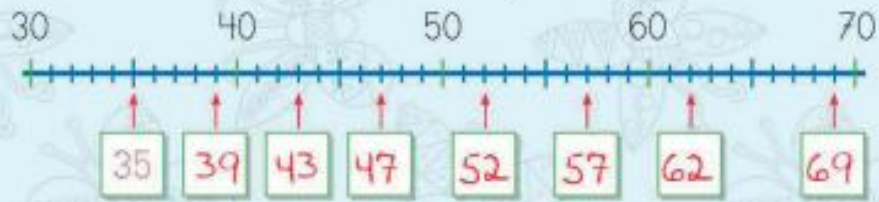
- 50
- 51
- 52
- 53
- 54
- 55
- 56
- 57
- 58
- 59
- 60
- 61
- 62
- 63
- 64
- 65
- 66
- 67
- 68
- 69

2. Resta unidades a números de dos cifras:

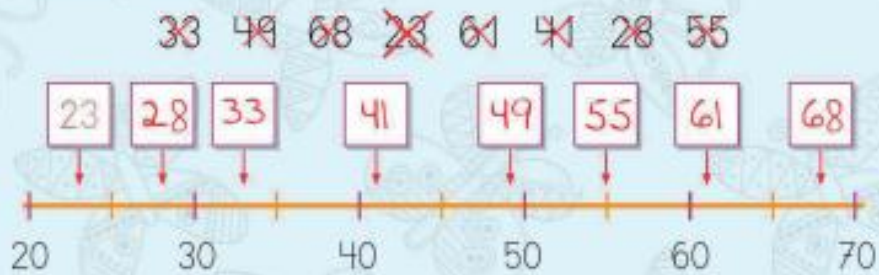

 $57 - 5 = 52$     
 $67 - 4 = 63$   

 $57 - 2 = 55$     
 $67 - 6 = 61$

3. Escribe el número que corresponda:



4. Escribe los números en su casilla correspondiente:



5. Une los números en orden desde el 1:



El siguiente de un número. Yo digo 35 y tú escribes  
36: 35, 46, 28, 63, 57, 19.

36 47 29 64 58 20

6. Cuenta y escribe:



7 decenas ...5 unidades

D U

setenta y cinco

7 5



7 decenas ...2 unidades

D U

setenta y dos

7 2



7 decenas ...7 unidades

D U

setenta y siete

7 7



7 decenas ...9 unidades

D U

setenta y nueve

7 9

7. Resta unidades a números de dos cifras:



$67 - 7 = 60$



$76 - 5 = 71$



$67 - 2 = 65$



$76 - 4 = 72$

60

61

62

63

64

65

66

67

68

69

70

71

72

73

74

75

76

77

78

79

80

¡No te olvides de pasar por el Gimnasio para practicar algunos ejercicios!



Tema 8

8. Ordena de mayor a menor capacidad:



Para practicar más con las capacidades, entra en:

Calcula.com

9. Rodea el cubo en el que cabe menos agua y completa las frases:



En el rojo cabe menos agua que en el lila.

En el verde cabe más agua que en el rojo.

En el lila cabe menos agua que en el verde.








Resta de decenas. Yo digo 50 - 20 y tú escribes 30.  
50 - 20, 70 - 10, 40 - 30, 60 - 20, 30 - 10, 80 - 40.

30 | 60 | 10 | 40 | 20 | 40

10. Completa las casillas en blanco:



1	2		4	5	6		8		10
	12	13	14	15	16		18		20
	22	23		25					30
31				35		37			40
				45	46		48	49	50
	52		54	55	56		58		
61	62		64	65		67			70
	72	73		75	76		78	79	

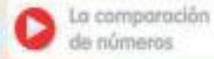
- 31
- 33
- 35
- 37
- 39
- 41
- 43
- 45
- 47
- 49
- 51
- 53
- 55
- 57
- 59

¿Qué números tapan las flores?



11. Colorea el camino contando de 2 en 2:





12. Escribe el signo  $>$  o  $<$ :

62  $>$  26      75  $<$  76      45  $<$  55

17  $<$  71      68  $>$  66      31  $>$  13

13. Escribe el número que corresponda:



14. Ordena de menor a mayor:

48 75 29 62 ~~78~~ ~~79~~ 37 38

18  $<$  29  $<$  37  $<$  38  $<$  48  $<$  62  $<$  75  $<$  79

**15. Resta números de dos cifras:** ▶ Resta con regletas

DU

$$\begin{array}{r} 36 \\ - 15 \\ \hline 1 \end{array}$$

DU

$$\begin{array}{r} 36 \\ - 15 \\ \hline 21 \end{array}$$

Primero,  
resto las  
unidades

Después,  
las decenas.

$$\begin{array}{r} 27 \\ - 21 \\ \hline \dots 6 \end{array}$$

$$\begin{array}{r} 36 \\ - 16 \\ \hline \dots 20 \end{array}$$

$$\begin{array}{r} 44 \\ - 12 \\ \hline \dots 32 \end{array}$$

$$\begin{array}{r} 37 \\ - 25 \\ \hline \dots 12 \end{array}$$

$$\begin{array}{r} 35 \\ - 15 \\ \hline \dots 20 \end{array}$$

$$\begin{array}{r} 28 \\ - 14 \\ \hline \dots 14 \end{array}$$

$$\begin{array}{r} 49 \\ - 21 \\ \hline \dots 28 \end{array}$$

$$\begin{array}{r} 45 \\ - 20 \\ \hline \dots 25 \end{array}$$

$$\begin{array}{r} 25 \\ - 15 \\ \hline \dots 10 \end{array}$$

**Cálculo mental** Series decrecientes. Yo digo 38 y tú continúas 37, 36, 35, 34...: 38, 50, 46, 29, 34, 21.

130 ciento treinta

16. Resta contando hacia arriba:

$$\begin{array}{r} 57 \\ - 32 \\ \hline 5 \end{array}$$

De 2 a 7  
van 5.

$$\begin{array}{r} 57 \\ - 32 \\ \hline 25 \end{array}$$

De 3 a 5  
van 2.

$$\begin{array}{r} 36 \\ - 15 \\ \hline 21 \end{array}$$

$$\begin{array}{r} 49 \\ - 26 \\ \hline 23 \end{array}$$

$$\begin{array}{r} 47 \\ - 35 \\ \hline 12 \end{array}$$

Si no hay decenas  
pon un cero.

$$\begin{array}{r} 59 \\ - 27 \\ \hline 32 \end{array}$$

$$\begin{array}{r} 28 \\ - 03 \\ \hline 25 \end{array}$$

$$\begin{array}{r} 55 \\ - 02 \\ \hline 53 \end{array}$$

17. Completa las sumas:

6

$$\begin{array}{l} 4 + 2 \\ 3 + 3 \\ 5 + 1 \\ 2 + 4 \end{array}$$

7

$$\begin{array}{l} 6 + 1 \\ 4 + 3 \\ 3 + 4 \\ 5 + 2 \end{array}$$

8

$$\begin{array}{l} 4 + 4 \\ 5 + 3 \\ 8 + 0 \\ 6 + 2 \end{array}$$

9

$$\begin{array}{l} 1 + 8 \\ 3 + 6 \\ 5 + 4 \\ 7 + 2 \end{array}$$