





10. Rodea la bolsa que pesa más:



11. ¿Cuánto pesa cada caja?



..... kg



..... kg

12. Coloca, resuelve y completa la serie:

$39 + 14$

$48 + 33$

$59 + 29$

$24 + 68$



13. Completa las sumas y la serie:

$$\begin{array}{r} 39 \\ + \dots 1 \\ \hline 6 \dots \end{array}$$

$$\begin{array}{r} 52 \\ + \dots 8 \\ \hline 9 \dots \end{array}$$

$$\begin{array}{r} \dots 6 \\ + 36 \\ \hline 7 \dots \end{array}$$

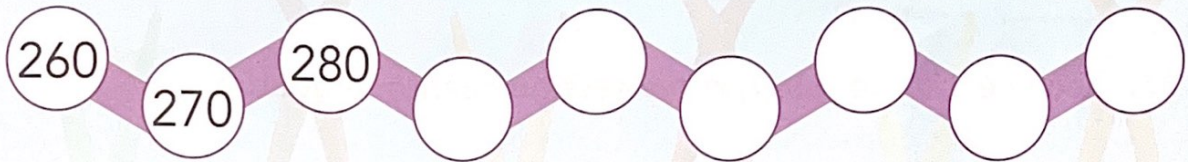
$$\begin{array}{r} \dots 8 \\ + 24 \\ \hline 8 \dots \end{array}$$

$$\begin{array}{r} \dots 9 \\ + 39 \\ \hline 5 \dots \end{array}$$

$$\begin{array}{r} 47 \\ + \dots 5 \\ \hline 7 \dots \end{array}$$

$$\begin{array}{r} \dots 5 \\ + 46 \\ \hline 8 \dots \end{array}$$

$$\begin{array}{r} 48 \\ + \dots 2 \\ \hline 6 \dots \end{array}$$



14. Suma:

$$\begin{array}{r} 32 \\ 3 \\ + 35 \\ \hline \dots \end{array}$$

$$\begin{array}{r} 25 \\ 34 \\ + 21 \\ \hline \dots \end{array}$$

$$\begin{array}{r} 15 \\ 6 \\ + 25 \\ \hline \dots \end{array}$$

$$\begin{array}{r} 26 \\ 14 \\ + 24 \\ \hline \dots \end{array}$$

$$\begin{array}{r} 12 \\ 15 \\ + 26 \\ \hline \dots \end{array}$$

$$\begin{array}{r} 20 \\ 39 \\ + 26 \\ \hline \dots \end{array}$$

$$\begin{array}{r} 36 \\ 4 \\ + 29 \\ \hline \dots \end{array}$$

$$\begin{array}{r} 56 \\ 16 \\ + 22 \\ \hline \dots \end{array}$$

$$\begin{array}{r} 38 \\ 32 \\ + 13 \\ \hline \dots \end{array}$$

$$\begin{array}{r} 41 \\ 20 \\ + 29 \\ \hline \dots \end{array}$$

15. Escribe el signo < o > según corresponda:

335 353 372 327 320 321

284 283 395 295 346 364

271 217 301 310 328 327



16. Completa el número para que se cumpla la condición:

315 > 3 9

36 < 361

389 < 3 4

247 > 95

3 6 < 310

311 > 3 9

17. Tacha el dinero que gasta y escribe cuánto le queda:

101 €

Le quedan euros.

155 €

Le quedan euros.

18. Completa los enunciados y resuelve:

Tenía cromos y regalo
¿Cuántos me quedan?

Operación



$$\begin{array}{r} 57 \\ - 15 \\ \hline \end{array}$$

Solución

Tenía 26 canicas y me regalan más.
¿Cuántas tengo ahora?

Operación



$$\begin{array}{r} 26 \\ + 14 \\ \hline \end{array}$$

Solución

Entre Jorge y Marta tienen €. Si Marta
tiene €, ¿cuántos tiene Jorge?

Operación




$$\begin{array}{r} 78 \\ - 42 \\ \hline \end{array}$$

Solución

Me faltan € para comprar un balón que
cuesta €. ¿Cuánto dinero tengo?

Operación



$$\begin{array}{r} 49 \\ - 13 \\ \hline \end{array}$$

Solución